



REPASO NAVIDEÑO

6º





Completa



Palabra	Sinónimo	Antónimo
malo		
costoso		
luminoso		
tristeza		
pelea		
aburrido		
juntar		
delgado		
lento		

Escribe una oración con cada
una de estas palabras



sabana

sábana

júbilo

jubiló

ejército

ejercitó

práctico

practicó

bebé

bebe



Escribo palabras con estas terminaciones y armo una oración con cada una



-cito

-ivo

-zuela

-azo

-ón






-dor

-aje



Completa la tabla



Personajes	Adjetivos calificativos	Título para un cuento
    		



Inventa un sujeto para estos predicados



..... es blanca.

..... corre fuerte.

..... es muy viejo.

Inventa un predicado para estos sujetos

La profesora

Mi hermano

Yo



Inventa una historia en
base a la frase dada.



“Un día, caminando por el parque,
encuentras un perro que habla”





Lee y responde Verdadero o Falso "Hochi, el reno"



Después de años de fiel servicio, el padre de Hochi fue retirado del trineo de Papa Noel, dada su avanzada edad. Un puesto hereditario, que pasaba desde tiempos inmemorables de padres a hijo y que muy pronto debía asumir el joven Hochi.

Una gran responsabilidad, para la que no se sentía preparado y cuyo peso le causaba tal zozobra, que sin que nadie se diera cuenta, se escapó de su cruel destino. Sin ningún sitio a donde ir, voló y voló, hasta encontrar una pequeña cueva en la que poder descansar un rato.

Cuando sus padres se dieron cuenta de la locura que había hecho su hijo, comenzaron a buscarle desesperadamente por todo el Polo, con la ayuda del resto de los renos y Papá Noel. A punto de darse por vencidos, encontraron al pequeño, durmiendo plácidamente en la caverna.

-Hochi, hijo mío. ¿Por qué nos has hecho esto? –Dijo la madre con lágrimas en los ojos-

-Siento que sufras mamá, pero es que no quiero tirar de ese pesado trineo.



Lee y responde Verdadero o falso "Hochi, el reno"



-Es una tradición familia-dijo su padre muy enfadado- de la que debes hacerte cargo, como hicieron todos nuestros ancestros. Comprendo que estés asustado, pues todos lo estuvimos la primera vez al llevar el trineo, pero debes pensar que sin nosotros, miles de niños se quedarían sin sus regalos.

Tras un largo silencio, Hori dijo:

-Tienes razón papá, he sido un egoísta al pensar únicamente en mi beneficio. Cuando tenga miedo o me parezca imposible continuar, siempre recordaré tus palabras.

- 1) El padre de Hochi fue retirado del trineo de Papá Noel por estar viejecito.
- 2) Hochi aceptó la tradición valientemente.
- 3) Lo buscaban sus padres, los renos y Papá Noel.
- 4) Hochi tenía miedo de la responsabilidad.
- 5) Si Hochi no se hacía cargo, muchos niños quedarían sin regalos.
- 6) Hochi olvidará las palabras de su padre.



Ordenar de menor a mayor



1734632-1342785-1473612-1354023-1437612

Ordenar de mayor a menor

2315876-2135876-2315867-2318567-2135786

Escribe el número posterior



427327

1684752

846000

7129684

2108760

5689432

7483169

684127

9846709

Ordena estas medidas
de mayor a menor



900 cm - 67dm - 8m - 1 dam - 6 hm



7,7 g - 0,75 dag - 79 dg - 700 c - 0,0078 kg



2 m - 0.3 km - 3000 cm - 0.33 hm - 3.21 dam





Resuelve los siguientes problemas



En una pastelería, Patri compró $\frac{2}{3}$ de pastel, Felipe $\frac{1}{4}$, Pedro $\frac{4}{5}$ y Bea $\frac{1}{2}$.

- 1) ¿Quién compró más pastel?
- 2) ¿Quién compró menos pastel?
- 3) ¿Quién compró el doble que Felipe?



Cinco niños están haciendo los adornos navideños. Ana lleva $\frac{9}{10}$ partes de su tarea completa, Carlos $\frac{1}{2}$, Pedro $\frac{3}{4}$ partes, Sol $\frac{4}{5}$ partes y Antonia $\frac{6}{8}$.

- 1) ¿Quién está más adelantado en su tarea?
- 2) ¿A quién le falta más por hacer?
- 3) ¿Quiénes van iguales?



Papá Noel este año lleva recorrido 585700 km en su trineo. Si el total esperado es de 3987350 km, ¿Cuánto le falta por recorrer?





Resuelve



$$5.7 + 5.63 =$$

$$5.5 + 1.84 =$$

$$2.77 + 2.6 =$$

$$6.71 + 1.57 =$$

$$2.31 + 0.6 =$$

$$4.8 - 1.53 =$$

$$0.4 - 1.42 =$$

$$10.4 - 2.2 =$$

$$8.5 - 3.6 =$$

$$4.7 - 0.3 =$$

$$2.2 \times 1.75 =$$

$$6.0 \times 2.4 =$$

$$1.28 \times 5.7 =$$

$$1.55 \times 1.2 =$$

$$8.7 \times 6.38 =$$

$$2.6 \div 0.2 =$$

$$0.70 \div 1.0 =$$

$$1.8 \div 6.0 =$$

$$4.2 \div 0.08 =$$

$$7.2 \div 3.2 =$$



Convierte los decimales en fracciones



$$2.630315 =$$

$$3.42468 =$$

$$0.7 =$$

$$0.263 =$$

$$0.892185 =$$

$$5.8190 =$$

$$1.09658 =$$

$$6.47 =$$

$$9.231 =$$

Calcula el perímetro y el área de las siguientes figuras

