





J'écris

Les heures


1. Dessine les aiguilles.



Il est six heures et demie.



Il est midi.



Il est neuf heures et quart.



Il est quatre heures vingt.



Il est dix heures moins cinq.



Il est une heure dix.


2. Écris les heures.



Il est _____




Il est _____




Il est _____




Il est _____




Il est _____



Il est _____



Il est _____



Il est _____